

BRANO CM 17

Leggere il brano e rispondere a ogni quesito solo in base alle informazioni contenute (esplicitamente o implicitamente) nel brano e non in base a quanto il candidato eventualmente conosca sull'argomento.

Gli Stati membri dovranno prendere in considerazione le seguenti misure: inserire nei sistemi nazionali di istruzione e formazione programmi di studio relativi alle attività imprenditoriali; incoraggiare gli istituti di ricerca e le università a sfruttare i risultati dell'innovazione mediante la creazione di nuove imprese; stimolare i ricercatori a creare e a sviluppare imprese innovative, basate sulle loro conoscenze ed esperienze tecnologiche; indirizzarsi a gruppi specifici (donne, disoccupati di lungo periodo, gruppi sfavoriti) per sensibilizzarli alle possibilità di dar vita ad un'attività imprenditoriale; rendere il quadro istituzionale ed i partner esterni delle piccole imprese più aperti allo spirito imprenditoriale e più consapevoli delle esigenze particolari delle nuove imprese mediante una formazione iniziale e permanente; incoraggiare il lavoro autonomo come scelta di sviluppo professionale e nella formazione dei disoccupati; migliorare l'accesso degli imprenditori all'istruzione e alla formazione e sviluppare l'offerta di formazione a livello locale; promuovere forme di addestramento e di guida delle imprese nascenti da parte di imprenditori in pensione o di professionisti sperimentati e la creazione di reti di giovani imprenditori.

-
- 1** Rispondere al seguente quesito facendo riferimento al BRANO CM 17 B00001
Gli Stati membri dovranno incoraggiare i ricercatori a creare aziende basate:
- A** sulle loro pregresse attività
 - B** sulle loro attitudini
 - C** sulle loro proposte
 - D** sulla produzione di materiali ad alto contenuto tecnologico
-
- 2** Rispondere al seguente quesito facendo riferimento al BRANO CM 17 B00002
Gli Stati membri dovranno coinvolgere nello sviluppo di imprese:
- A** settori sociali
 - B** movimenti politici
 - C** piccole imprese già esistenti
 - D** medie imprese già esistenti
-
- 3** Rispondere al seguente quesito facendo riferimento al BRANO CM 17 B00003
Gli Stati membri dovranno sforzarsi di decentrare:
- A** la formazione
 - B** le università
 - C** gli istituti di ricerca
 - D** le piccole imprese
-
- 4** Rispondere al seguente quesito facendo riferimento al BRANO CM 17 B00004
Da quanto si evince dal testo, a chi dovrebbe essere soprattutto indirizzata la formazione?
- A** A ragazze prive di occupazione
 - B** A giovani laureati per progredire nella carriera
 - C** A giovani donne manager nel settore della tecnologia
 - D** A imprenditori in pensione
-
- 5** Rispondere al seguente quesito facendo riferimento al BRANO CM 17 B00005
Gli Stati membri, in relazione alle attività imprenditoriali, dovranno adeguare:
- A** i programmi scolastici
 - B** gli uffici di collocamento
 - C** l'avviamento al lavoro
 - D** il servizio pubblico d'informazione

- 6 "Nessun abitante di La Spezia viaggia in bicicletta". Quale delle seguenti alternative è incompatibile con l'affermazione presentata?
- A** Nessuna delle altre risposte presentate è incompatibile
 - B** Sauro è un abitante di La Spezia e prende sempre l'autobus per spostarsi
 - C** Giulia è di Genova e viaggia in bicicletta
 - D** Mauro è un abitante di La Spezia e possiede una bicicletta

- 7 Gabriella, Tania, Maria, Anita e Giulia conoscono una tra le seguenti lingue straniere: il francese, lo spagnolo, il portoghese, il tedesco e il russo. Tania e Anita mentono sempre, mentre Maria non mente mai. Tania sostiene di conoscere il francese e che Giulia conosce il russo; Maria afferma di conoscere il portoghese e dice che Tania le ha detto di conoscere il tedesco. Quale lingua conosce Tania?
- A** Il russo o lo spagnolo
 - B** Il tedesco o il francese
 - C** Il russo o il tedesco
 - D** Il portoghese o il francese

- 8 "Per poter conoscere lo scopo di una associazione è sufficiente, ma non necessario, leggerne lo statuto". Indicare quale delle seguenti situazioni è incompatibile con quanto precedentemente affermato.
- A** Daniela non conosce lo scopo dell'associazione dopo averne letto lo statuto
 - B** Donatella ha letto lo statuto di una associazione e conosce quale scopo abbia quell'associazione
 - C** Debora non ha letto lo statuto di una associazione e non conosce quale scopo abbia quell'associazione
 - D** Diana conosce lo scopo di una associazione pur non avendone letto lo statuto

FIGURA VV 90

A. MUSEO	B. VERITIERO	C. APPREZZATO	D. VETUSTO
E. REALE	F. SPURIO	G. ANTICO	H. AUTOREVOLE

- 9 Rispondere al seguente quesito facendo riferimento alla FIGURA VV 90
... sta a ATTUALE come AUTENTICO sta a ...:

- A** DF
- B** EB
- C** HC
- D** AF

FIGURA VV 91

A. DOTTORE
E. MAMMIFERI

B. ZOOLOGIA
F. TROTA

C. ENDOCRINOLOGO
G. PESCI

D. BRANCIE
H. RETTILI

- 10 Rispondere al seguente quesito facendo riferimento alla FIGURA VV 91 B00010
... sta a ORMONI come ITTIOLOGO sta a ...:
- A** CG
 - B** DE
 - C** AB
 - D** HD

- 11 B00011
"Non tutti gli abitanti del quartiere 2 che hanno un lavoro sono sposati". Quindi:
- A** almeno un abitante del quartiere 2 ha un lavoro e non è sposato
 - B** almeno un abitante del quartiere 2 non ha un lavoro ed è sposato
 - C** tutti gli abitanti del quartiere 2 hanno un lavoro
 - D** nessun abitante del quartiere 2 è sposato

BRANO CM 18

Leggere il brano e rispondere a ogni quesito solo in base alle informazioni contenute (esplicitamente o implicitamente) nel brano e non in base a quanto il candidato eventualmente conosca sull'argomento.

Leggete attentamente.

L'azienda Tulli produce un particolare tipo di croissant vegano che è sostanzialmente identico a quello prodotto dall'azienda Marchi. La Tulli ha raggiunto un livello di produzione tale che le ha permesso di essere conosciuta in tutta Italia e i suoi prodotti vengono venduti in tutto il territorio italiano. La Marchi, invece, è nata da poco ed è riuscita a farsi conoscere solamente a livello regionale. Per entrambe le aziende, le materie prime utili alla creazione del croissant vegano rappresentano più della metà dei costi di produzione, così, l'azienda Marchi, per cercare di adeguarsi all'azienda Tulli in termini di qualità e guadagni, ha deciso di comprare le materie prime da un fornitore più economico.

- 12 Rispondere al seguente quesito facendo riferimento al BRANO CM 18 B00012
Quale delle seguenti affermazioni si deduce dal brano?
- A** Le materie prime del nuovo fornitore dell'azienda Marchi sono di qualità sostanzialmente identica a quelle utilizzate dall'azienda Tulli
 - B** L'azienda Tulli utilizza un ingrediente segreto di cui l'azienda Marchi non è a conoscenza
 - C** Il croissant vegano attuale dell'azienda Marchi è più buono di quello dell'azienda Tulli, nonostante sia meno conosciuto
 - D** L'azienda Marchi ha scoperto un nuovo metodo di lievitazione che rende il croissant vegano più friabile di quello precedentemente venduto

BRANO CM 19

Leggere il brano e rispondere a ogni quesito solo in base alle informazioni contenute (esplicitamente o implicitamente) nel brano e non in base a quanto il candidato eventualmente conosca sull'argomento.

Leggete attentamente.

È stata recentemente scoperta la presenza della popolazione armena nella Firenze del 1200. Infatti, in alcune biblioteche della città, sono stati ritrovati dei manoscritti redatti in lingua armena, che sembrano risalire, secondo recenti studi, ai primi anni del 1200. Ciò ha permesso di concludere che già in quell'epoca erano presenti, almeno in ambito ecclesiastico, esponenti della popolazione armena a Firenze.

- 13 Rispondere al seguente quesito facendo riferimento al BRANO CM 19 B00013
Quale delle seguenti affermazioni è un presupposto su cui si basa l'argomentazione presentata?

- A** I manoscritti trovati sono a contenuto religioso
- B** A Firenze, già nel 1200, in ambito ecclesiastico, si parlavano diverse lingue oltre all'italiano e al latino, tra cui l'armeno
- C** La lingua armena non era molto diffusa nel 1200
- D** Nel 1200 solo gli ecclesiastici avevano la possibilità di viaggiare e di spingersi in terre anche molto lontane rispetto a quella d'origine

BRANO CM 20

Leggere il brano e rispondere a ogni quesito solo in base alle informazioni contenute (esplicitamente o implicitamente) nel brano e non in base a quanto il candidato eventualmente conosca sull'argomento.

Leggete attentamente.

L'azienda PharmaX sta lavorando su un nuovo tipo di intelligenza artificiale, che hanno chiamato DoctorX. Si tratta di un software in grado di diagnosticare le malattie sulla base dei sintomi che i pazienti presentano e che possono elencare all'interno del software. Tramite un complicato algoritmo, DoctorX elabora e accoppia i sintomi digitati dal paziente, restituendo una diagnosi. Di questo passo, presto DoctorX sarà in grado di sostituire l'operato del medico di base.

- 14 Rispondere al seguente quesito facendo riferimento al BRANO CM 20 B00014
Quale delle seguenti affermazioni indebolisce l'argomentazione presentata?

- A** DoctorX elabora solo i sintomi digitati dal paziente e non è in grado di indagare la presenza di altri sintomi, discriminanti per la diagnosi, che il paziente potrebbe non considerare
- B** DoctorX è in grado di fornire diagnosi piuttosto precise e affidabili, ma non propone la cura
- C** DoctorX potrebbe superare molti dei problemi legati alla soggettività dei medici
- D** Sebbene l'operato di DoctorX sia affidabile nella diagnosi, è sempre bene che la cura venga prescritta da un medico

BRANO CM 21

Leggere il brano e rispondere a ogni quesito solo in base alle informazioni contenute (esplicitamente o implicitamente) nel brano e non in base a quanto il candidato eventualmente conosca sull'argomento.

Leggete attentamente.

L'artrite psoriasica è una patologia infiammatoria cronica che coinvolge non solo la cute e le unghie, ma anche i tendini e le articolazioni e si manifesta in un paziente con psoriasi su tre. Il Tofacitinib è il primo farmaco orale per il trattamento dell'artrite psoriasica in associazione al metotrexato, nei pazienti che non hanno risposto o non hanno tollerato un precedente farmaco di fondo. "Dal punto di vista clinico - afferma il dott. Cecchetti i risultati sono buoni. Nei pazienti trattati con il Tofacitinib rileviamo una riduzione del numero di articolazioni gonfie e soprattutto una notevole riduzione del dolore. Infatti, i pazienti riferiscono un benessere rapido già dopo le prime settimane di somministrazione. Tofacitinib rappresenta la nuova opportunità per i pazienti di curare l'artrite psoriasica tramite un farmaco orale".

- 15 Rispondere al seguente quesito facendo riferimento al BRANO CM 21 B00015
Quale delle seguenti affermazioni, se vera, indebolisce la conclusione del dott. Cecchetti?

- A** Il farmaco Tofacitinib è in grado di ridurre il dolore e il gonfiore articolari, ma non è stato trovato nessun miglioramento a livello dell'infiammazione articolare
- B** L'artrite psoriasica si manifesta con dolore e gonfiore solamente nel 50% dei casi, mentre negli altri casi questi due sintomi non sono presenti
- C** Nessun farmaco prima di Tofacitinib era in grado di produrre dei miglioramenti nei sintomi dell'artrite psoriasica
- D** L'assunzione del Tofacitinib non comporta effetti collaterali

16 "Nessun piemontese tifa Inter". Quale situazione è incompatibile con l'informazione precedente?

- A Carlo è interista ed è piemontese
- B Carlo è interista ed è italiano
- C Carlo è interista
- D Carlo è piemontese e tifa Milan

17 Sappiamo che almeno uno tra Alice, Berta e Carla andrà alla festa e che al massimo andranno due di loro. Da ciò segue che:

- A se Alice non va alla festa allora Berta o Carla ci andrà
- B non andranno alla festa Carla e Alice
- C non andrà alla festa Carla
- D non andranno alla festa Alice e Berta

18 Sia dato il seguente argomento: «Se Anna va alla festa, ci va anche Maria; alla festa vanno Anna e Luca. Se Carlo va alla festa, si diventerà. Quindi, Maria va alla festa». Quale premessa non serve per ottenere la conclusione?

- A Se Carlo va alla festa, si diventerà
- B Se Anna va alla festa, ci va anche Maria
- C Alla festa vanno Anna e Luca
- D Tutte le premesse sono necessarie per la conclusione

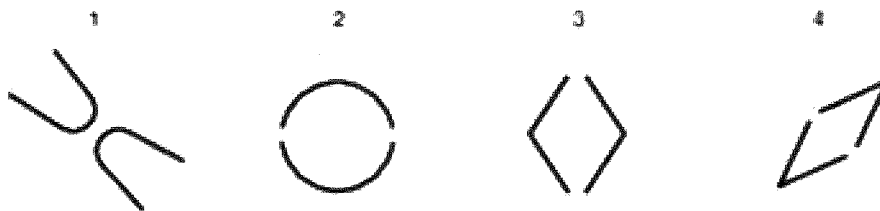
19 Un controesempio è un fatto particolare che dimostra che una certa congettura generale è falsa. Quale dei seguenti è un controesempio all'affermazione: "Tutti i ragni velenosi che vivono in Egitto sono verdi"?

- A Esiste un ragno velenoso giallo che vive in Egitto
- B Esiste un ragno verde che vive in Egitto
- C Esiste un ragno velenoso che non è verde
- D Esiste un ragno che non vive in Egitto

20 Ieri Luisa ha detto a Gianni che l'indomani sarebbe andata a Roma. Se oggi è il 23 luglio, quando Luisa andrà a Roma?

- A Il 23 luglio
- B Il 22 luglio
- C Il 24 luglio
- D L'altro ieri

FIGURA VV 25



21 Rispondere al seguente quesito facendo riferimento alla FIGURA VV 25
Quale delle figure è diversa dalle altre?

B00021

- A Figura 1
- B Figura 2
- C Figura 3
- D Figura 4

FIGURA VV 49



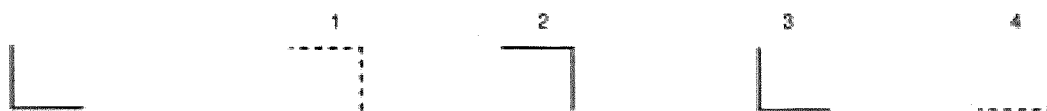
22 Rispondere al seguente quesito facendo riferimento alla FIGURA VV 49
Quale delle figure è diversa dalle altre?

B00022

- A Figura 3
- B Figura 2
- C Figura 1
- D Figura 4

Handwritten signature

FIGURA VV 28



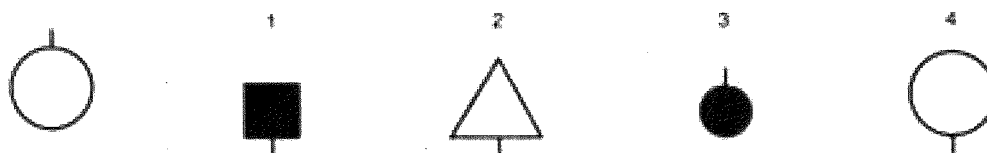
23

Rispondere al seguente quesito facendo riferimento alla FIGURA VV 28
Quale tra le figure a destra è maggiormente diversa dalla figura di sinistra?

B00023

- A Figura 1
- B Figura 2
- C Figura 3
- D Figura 4

FIGURA VV 52



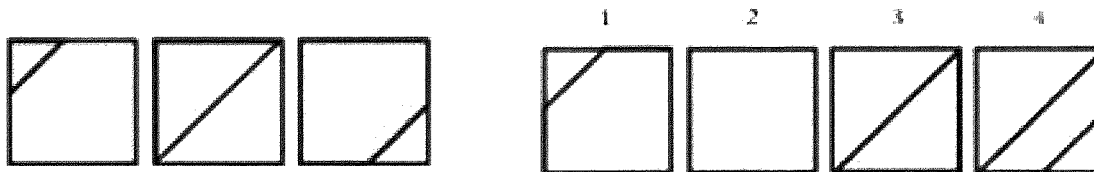
24

Rispondere al seguente quesito facendo riferimento alla FIGURA VV 52
Quale tra le figure a destra è maggiormente diversa dalla figura di sinistra?

B00024

- A Figura 1
- B Figura 2
- C Figura 3
- D Figura 4

FIGURA VV 57

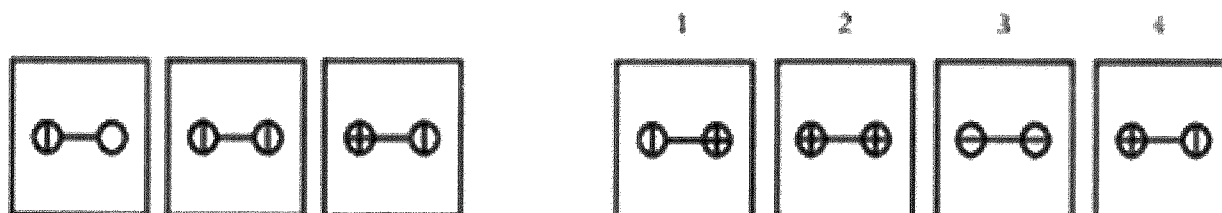


25 Rispondere al seguente quesito facendo riferimento alla FIGURA VV 57
Qual è la figura che continua la serie?

B00025

- A** Figura 2
- B** Figura 1
- C** Figura 3
- D** Figura 4

FIGURA VV 92

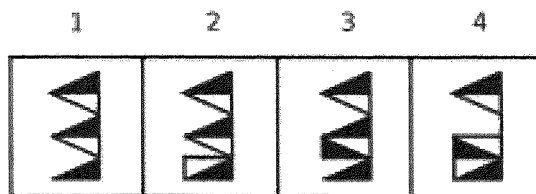



26 Rispondere al seguente quesito facendo riferimento alla FIGURA VV 92
Qual è la figura che continua la serie?

B00026

- A** Figura 2
- B** Figura 1
- C** Figura 3
- D** Figura 4

FIGURA VV 93



27

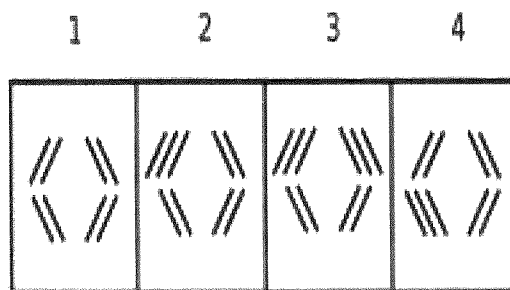
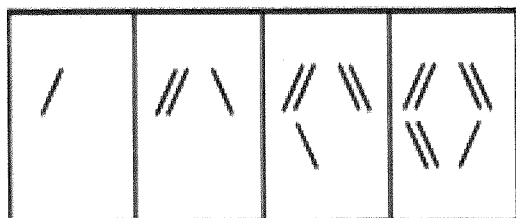
Rispondere al seguente quesito facendo riferimento alla FIGURA VV 93

B00027

Qual è la figura che continua la serie?

- A** Figura 2
- B** Figura 1
- C** Figura 3
- D** Figura 4

FIGURA VV 94



28

Rispondere al seguente quesito facendo riferimento alla FIGURA VV 94

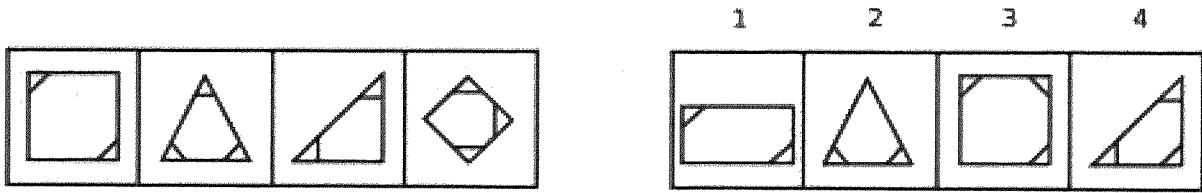
B00028

Qual è la figura che continua la serie?

- A** Figura 2
- B** Figura 1
- C** Figura 3
- D** Figura 4

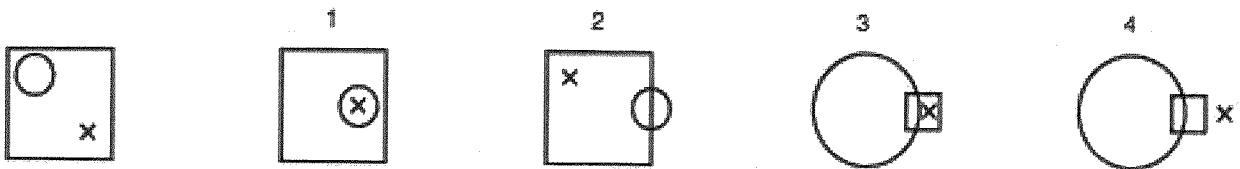
Handwritten signatures and marks.

FIGURA VV 95



- 29 Rispondere al seguente quesito facendo riferimento alla FIGURA VV 95
 Qual è la figura che continua la serie? B00029
- A Figura 1
 - B Figura 2
 - C Figura 3
 - D Figura 4

FIGURA VV 96



- 30 Rispondere al seguente quesito facendo riferimento alla FIGURA VV 96
 Quale tra le figure a destra è maggiormente diversa dalla figura di sinistra? B00030
- A Figura 4
 - B Figura 2
 - C Figura 3
 - D Figura 1

[Handwritten signatures and marks]

Handwritten marks and signatures:
A large handwritten 'R' is positioned above the page number.
Below the page number, there are several handwritten marks, including a checkmark-like symbol, a square symbol, and a signature that appears to be 'MOR'.